



依照心測中心所公布試題通過率，並按試題難易度與通過率分成**簡單C**、**基礎B**和**精熟A**三種等級，幫助學生輕鬆了解會考的布題與趨勢。在解題過程中，特別標示破題關鍵，使考生能迅速掌握得分之鑰。

簡單 C	通過率65%以上
基礎 B	通過率41~64%
精熟 A	通過率40%以下

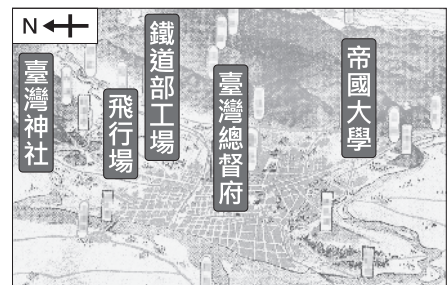


題目不具難度，有少量的記憶性考題和簡單基本核心觀念的考題，學生只要能掌握基本教材的學習內容，並覺察相關訊息的能力即可。

114會考〔6〕 | 85% | 日治時期臺灣 | 第二冊→雙向溝通P48

(C) 1. 右圖是臺灣歷史上某地區的地圖。根據內容判斷，此圖最有可能出自下列何者？

- (A) 大航海時代的〈熱蘭遮城鎮鳥瞰圖〉
- (B) 清帝國統治時期的《淡水廳志》
- (C) 日本統治時期的〈臺北州大觀〉
- (D) 戰後臺灣的《最新版臺灣街道圖》




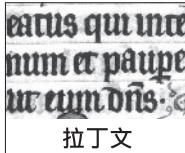
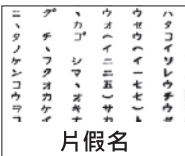

破題關鍵

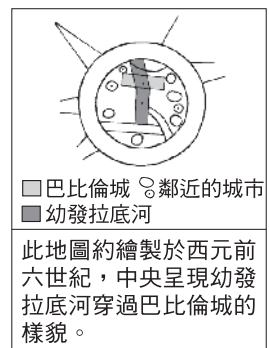
臺灣神社、臺灣總督府。

解析 圖中出現「臺灣神社」、「臺灣總督府」可知是日治時期臺灣，故選(C)。

113會考〔7〕 | 80% | 西亞古文明 | 第五冊→雙向溝通P188

(D) 2. 古代人們在繪製地圖時，通常會將自己所處的區域放在地圖中央。右圖是某地區出土的古世界地圖及其說明，該地區當時所使用的文字，最可能為下列何者？

- (A)  象形文字
- (B)  拉丁文
- (C)  片假名
- (D)  楔形文字



破題關鍵

巴比倫城、幼發拉底河。

解析 由西元前6世紀、巴比倫城與幼發拉底河等可知，應與西亞古文明有關，該文明當時使用的是(D)楔形文字。

題目靈活度提升，資料或圖表須利用分析推論能力，思考判斷空間明顯增加，題目偶爾藏有陷阱、誘答，學生大致能了解教材的學習內容，並能運用基礎的領域知識探究人類生活相關議題。

111會考〔20〕 | 59% | 日本統治時期 | 第二冊→雙向溝通P48、52

(A) 1. 右圖為臺灣某年報紙刊登的二則社會新聞。根據內容判斷，新聞報導的事情最早可能發生於下列何時？

- (A) 日本統治時期
- (B) 清帝國統治時期
- (C) 中華民國政府遷臺初期
- (D) 中華民國政府推動十大建設期間

某位三十四歲男性在艋舺玩樂而散盡積蓄，想在自來水源地尋短，卻因為害怕而放棄。最後因為在龍匣口街白吃白喝，遭店

某位二十五歲男性竊取兄長現金一百二十圓，帶十九歲的女友私奔，其兄長與警察在臺南火車站發現他的行蹤。他當時正想要跳上開往打狗的列車逃

最早警察制度在日治時期

最早自來水設施在日治時期

西部縱貫鐵路

解析 由圖中「自來水水源地」、「警察」、「臺南火車站」、「開往打狗列車」判斷，臺灣最早的「自來水」、「警察制度」、「基隆到高雄的縱貫鐵路」均是在日治時期，故選(A)。


破題關鍵

自來水水源地、開往打狗的列車。

111會考補考〔32〕 | 中國的治外法權 | 第三冊→雙向溝通P121、122、125

(D) 2. 右圖是某時期上海報刊上所刊載的時事報導，此一報導最可能是在描繪下列何時的情景？

- (A) 十六世紀前期
- (B) 十七世紀後期
- (C) 十八世紀前期
- (D) 十九世紀後期



一名日本軍官在本地去世，送葬隊伍由百餘名日本軍人吹奏哀樂，引導運棺馬車緩緩而行，最後則是由海軍將領和**日本領事**隨行。隊伍經過**英國租界**，往墓地而去。

破題關鍵

租界與日本領事。

1840年代鴉片戰爭以後

1860年代英法聯軍以後

解析 由報導文中有「日本領事」、「英國租界」判斷，外國人在中國有租界地是在鴉片戰爭後的《南京條約》的續約（1840年代）中取得，外國得派駐華使節是在英法聯軍（1860年代）以後，均在19世紀後期，故選(D)。

111會考補考〔7〕 | 中國中央集權制度 | 第三冊→雙向溝通P88

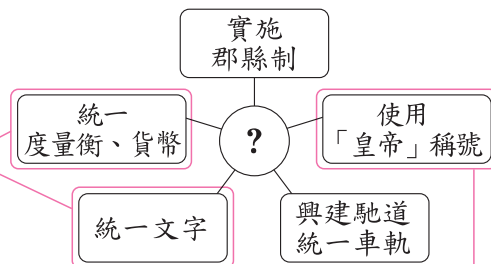
(B) 3. 小惠在筆記上畫了一幅關係圖，其中「？」是筆記的主題，如右圖所示。根據內容判斷，此主題應是下列何者？

- (A) 朝貢貿易的推動
- (B) 中央集權的奠基
- (C) 科舉制度的建立
- (D) 九品官人法的實施

秦始皇統一文物制度

破題關鍵

皇帝、實施郡縣制、統一文字。



秦王嬴政首度使用

解析 西元前221年，秦王嬴政統一六國，以皇帝作為君王的稱號，自稱「始皇帝」，史稱秦始皇。他廢除封建制，不再分封諸侯，全面實施郡縣制，郡縣長官均由中央直接任免，並推動統一文字、貨幣和度量衡等政策，確立了中央集權的君主政體，故選(B)。

精熟

A

題目有難度，學生須能融會貫通學習內容，並統整相關課程概念知識，才能避開題幹設計上的陷阱、誘答，推論出最正確答案。學生已能廣泛了解教材的學習內容，並能運用多元的領域知識探究人類生活相關議題。

111會考補考〔21〕 | 荷蘭東印度公司與臺灣 | 第一冊→雙向溝通P12

(D) 1. 「自我們從澎湖遷移到福爾摩沙之後，獲得新港社人的承諾，以十五匹布買得土地。該區域內有河川，土壤肥沃，野獸群生，又有沼澤，多魚類棲息。因此，依據1625年1月15日之決議，我們決定將商館搬遷至此處，建立市街。」上文的記載最可能與下列何者有關？

- (A) 鄭氏勢力以臺灣為主要根據地
- (B) 西班牙人在臺灣北部建立城堡
- (C) 清帝國將臺灣納入版圖設立臺灣府
- (D) 荷蘭聯合東印度公司在大員的經營

破題關鍵

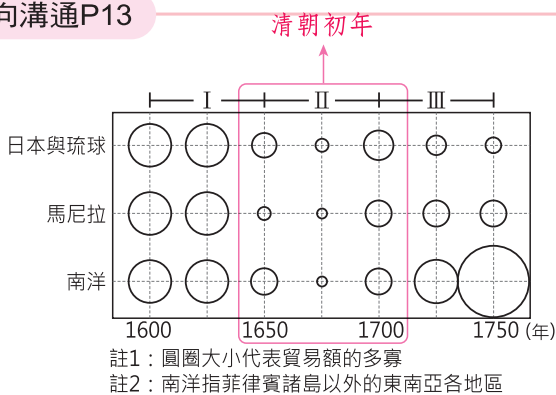
由「福爾摩沙」、「新港社」、時間點「1625年」。

解析 1624年，荷蘭人退出澎湖，轉往臺灣南部發展，成為首個占領臺灣的歐洲勢力。荷蘭人占領臺灣初期，先在大員修築熱蘭遮城，作為行政中心；又在赤崁一帶建立商業市街，稱為「普羅民遮」，後為鞏固對臺灣南部統治，興建普羅民遮城，故選(D)。

111會考〔31〕 | 39% | 鄭氏政權與清帝國 | 第一冊→雙向溝通P13

(D) 2. 右圖是某時期中國海外貿易的進出口總額統計圖。觀察圖中各區域與中國的貿易概況，分析造成圖中第「II」階段變化的主要原因，最可能與下列何者有關？

- (A) 朝廷驅逐在華的耶穌會傳教士
- (B) 玉米、馬鈴薯等美洲作物傳入
- (C) 義和團事變對社會經濟的衝擊
- (D) 鄭氏勢力擁兵東南與清廷對抗



破題關鍵

1650~1700年發生的史事。

解析 圖II時間在1650-1700年，時值清朝初年，1644年清兵入關統治中國後，鄭氏勢力在金門、廈門一帶抗清，1662年驅逐荷蘭人，轉往臺灣，故選(D)。(A)(B)應在1650年之前；(C)在1900年以後。

112會考〔31〕 | 39% | 俄國與兩次世界大戰 | 第六冊→雙向溝通P251、254

(C) 3. 右表呈現甲國於兩次世界大戰中，在歐洲戰場開始參戰與結束參戰的原因。表中的「？」最適合填入下列何者？

- (A) 美國投下原子彈，敵國投降
- (B) 簽署《凡爾賽條約》，戰敗投降
- (C) 國內共產政權成立，向同盟國議和
- (D) 美國反對無限制潛艇政策，援助協約國

甲國在歐洲戰場的情形	第一次世界大戰	第二次世界大戰
開始參戰的原因	支援「斯拉夫兄弟」	德國毀約攻打國土
結束參戰的原因	？	德國投降

破題關鍵

支援「斯拉夫兄弟」、德國毀約攻打國土。

解析 由表中可知甲國第一次大戰時「支援斯拉夫小兄弟」，第二次大戰時遭「德國毀約攻打國土」，判斷甲國是俄國。該國在第一次大戰期間發生了兩次革命，其中十月革命列寧建立共產政權，向同盟國投降議和，故選(C)。

題組

→ 當時尚未正式對外開港

1855年，美商威廉士洋行的商船航行至臺灣府安平外海，並派人上岸詢問是否能在當地貿易。經過安排，船長和臺灣道裕鐸在打狗會面，裕鐸在會談中告知船長，外國商船如果直接在安平停泊，並不符合規定，臺灣道將受到朝廷處罰，但裕鐸和打狗地方官員可以私下允許外國商船，停靠遠離政治核心的打狗進行貿易。

→ 仍有商船來臺貿易情形

然而，實際上官員後來往往放任外國商船停靠安平，未能嚴格執行禁令。過了數年，新任的臺灣道孔昭慈於1859年，又要求外國商船「不准像之前一樣在安平附近起卸貨物」。有位英國商人分析：「這並非臺灣道刻意禁止外商在臺灣府貿易，而是因為府城當地泉州人組成的商人團體，跑去向福建巡撫告狀，指控外國商船收購物產，造成物價上漲，影響了本地商人的生意。」

泉州商人告官外商嚴重影響本地商人利益 ←

111會考〔44〕 | 70% | 臺灣開港通商前後的貿易發展 | 第一冊→雙向溝通P30、31

- (B) 1. 根據上文中裕鐸與洋行的會談結果，當時臺灣對外貿易的情況，最可能是下列何者？
- (A) 當時臺灣尚未對外開港，裕鐸嚴禁洋商在臺貿易
 - (B) 當時臺灣尚未對外開港，實際上洋商已來臺貿易
 - (C) 當時臺灣已經對外開港，洋商可在臺灣各港口貿易
 - (D) 當時臺灣已經對外開港，裕鐸仍阻撓洋商在臺貿易

解析 由題幹中提到 1855 年當時 臺灣尚未開港，但又由「放任外國商船停靠安平，未能嚴格執行禁令」，可知實際是有洋商來臺貿易情形，故選(B)。

111會考〔45〕 | 62% | 臺灣開港通商前後的貿易發展 | 第一冊→雙向溝通P30、31

- (B) 2. 根據上文，外國商人分析臺灣道重申外國商船不得在安平附近起卸貨物的原因，最可能與下列何者有關？
- (A) 安平與鹿耳門泥沙淤積，易造成擱淺
 - (B) 府城商人透過「郊」來維護自身利益
 - (C) 日本出兵臺灣南部，清帝國提高警戒
 - (D) 許多府城商人組成「郊」與洋行合作

破題關鍵

臺灣開港前已有外商在臺貿易，造成本地商人抗議。

解析 由題幹中「而是因為府城當地泉州人……指控外國商船收購物產，造成物價上漲，影響了本地商人的生意」，故選(B)最適合。

誘答：(A)安平與鹿耳門雖有泥沙淤積現象，易造成船隻擱淺，卻不符合選文中英國商人的分析。